


MATEMATIKA, četrtek – 9.4.

➤ Ponovimo ČRTE:



Katere črte so RAVNE NESKLENJENE?

Katere črte so KRIVE NESKLENJENE?



Katere črte so RAVNE SKLENJENE?

Katere črte so KRIVE SKLENJENE?

➤ Reši DZ 67

Če nimaš DZ, nariši v zvezek in prevleci z barvicami.

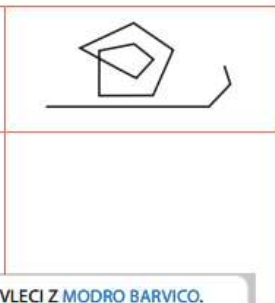
GEOMETRIJA | ČRTE

1. Preriši polžka!

Uporabi krive črte.




Uporabi ravne črte.



NESKLENJENE ČRTE PREVLECI Z MODRO BARVICO.
 SKLENJENE ČRTE PREVLECI Z RUMENO BARVICO.

S svinčnikom nariši svojo risbico! Uporabi ravne in krive črte ter sklenjene in nesklenjene črte.



NESKLENJENE ČRTE PREVLECI Z MODRO BARVICO.
 SKLENJENE ČRTE PREVLECI Z RUMENO BARVICO.

➤ **Reši DZ 68/ 2**

Če nimaš DZ, nariši tabelo v zvezek z barvicami.

2. V okenca tabele nariši črte. Črte opiši z besedami.


	SKLENJENE	NESKLENJENE
RAVNE		
KRIVE		

➤ **Reši DZ 68/3**

Če nimaš DZ, prepisi nalogo v zvezek in nariši.

3. Narišit


3 RAVNE, NESKLENJENE ČRTE



4 KRIVE, SKLENJENE ČRTE



5 KRIVIH, NESKLENJENIH ČRT



➤ **Reši DZ 69**

4. Priznalo pomeni sliko na levi strani in razloži na desni!



RAVNE ČRTE

KRIVE ČRTE

SKLENJENE ČRTE

NESKLENJENE ČRTE