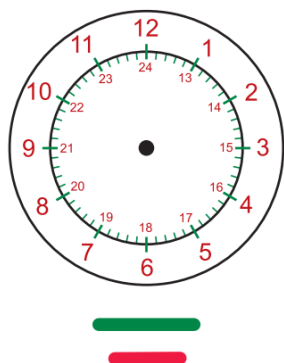


MATEMATIKA, ponedeljek – 30. 3.

Izdelaj svojo uro

- ✓ Predlogo za uro/kazalce izreži iz DZ stran 135 in prilepi na trši papir.
- ✓ Tisti, ki nimate DZ, ste dobili **gradivo za izdelavo ure**. Predlogo prilepi na karton (pritrdi kazalce) in si izdelaj uro.



ŠTEVILA 1 – 12....kažejo ure DOPOLDNE
ŠTEVILA 13 – 24...kažejo ure POPOLDNE

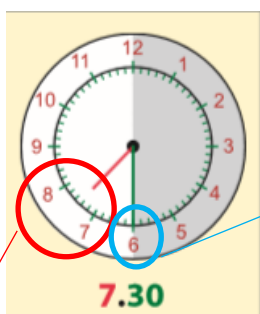
Dopoldne je ura: 10.00
Popoldne je ura 13.00 (ob enih)

Preberi:

Razlaga: **POLOVICA URE**

MALI KAZALEC JE MED 2 ŠTEVILKAMA

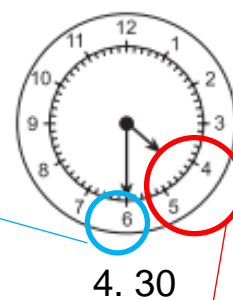
VELIKI KAZALEC NA 6 (kar predstavlja 30 minut)



Veliki kazalec
na 6

Mali kazalec je med
2 številka (med 7 in 8)

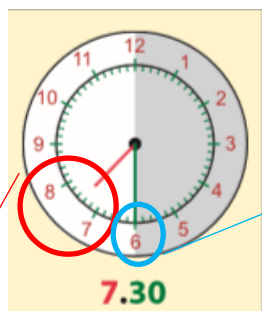
Vedno prebereš **MANJŠO ŠTEVILKO**
(torej 7)



Mali kazalec je med
2 številka (med 4 in 5)

prebereš **MANJŠO ŠTEVILKO**
(torej 4)

Zapis v zvezek:



Veliki kazalec
na 6

Mali kazalec je med
2 številka (med 7 in 8)

Vedno prebereš **MANJŠO ŠTEVILKO**
(torej 7)

Primeri (reši ustno):



10. 30



1.30



3.30



8.30

- Reši **DELOVNI LIST – URA 2**
Prilepi v zvezek/list

Priporočam brezplačen dostop do interaktivnih gradiv in nalog za utrjevanje znanja:

[https://www.digipuzzle.net/digipuzzle/animals/puzzles/setclock.htm?language=slovenian&linkback=../
../education/clocks/index.htm](https://www.digipuzzle.net/digipuzzle/animals/puzzles/setclock.htm?language=slovenian&linkback=../../education/clocks/index.htm)

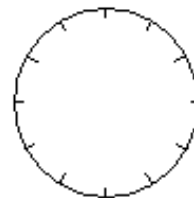
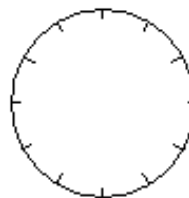
(KO SE ODPRE STRAN, KLIKNI: POL URE, ENOSTAVNA, VREDU)

<https://www.thatquiz.org/sl/practice.html?time&j=3&l=2&m=2kc0&n=a&p=1ughttps://www.thatquiz.org/sl/practice.html?time&j=3&l=2&m=2kc0&n=a&p=1ug>

Napiši koliko je ura!



Vriši uro!



7.30

1.30

2.30

4.30

5.30

11.30