

## MATEMATIKA, torek – 31. 3.

### ❖ NA URI POKAŽI:

3.00

7.30

12.00

2.30

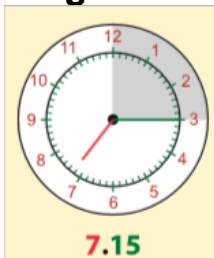
6.00

5.30

8.00

11.30

### ❖ Razlaga



**7.15**

15 minut čez sedem  
Četrť na osem



**7.45**

45 minut čez sedem  
15 minut do osmih  
Tri četrť na osem

### Zapis v zvezek:

VELIK KAZALEC  
NA 9 = **45 minut**



VELIK KAZALEC  
NA 3 = **15 minut**

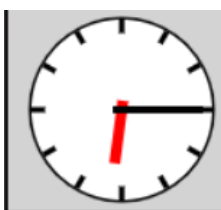
**7.15**

15 minut čez 7

**7.45**

45 minut čez 7  
15 minut do 8

### ❖ Primeri - razlaga:



Ura je **6. 15**

Najprej poglej kje je **MALI KAZALEC**?  
Med 6 in 7 → vzameš manjšo številko, torej

Kje je **VELIKI KAZALEC**?  
Na 3 → torej je to **15 minut**

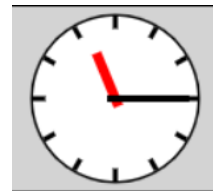
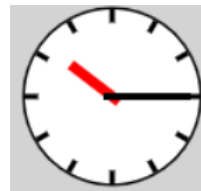
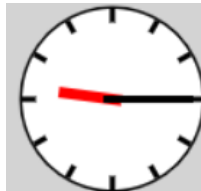
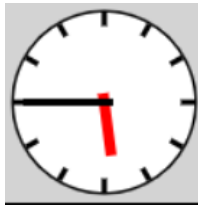
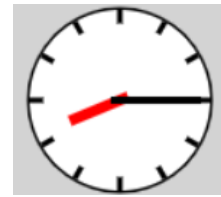
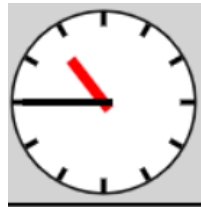
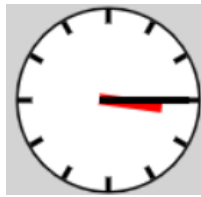
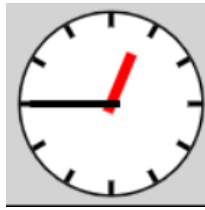


Ura je **3. 45**

Najprej poglej kje je **MALI KAZALEC**?  
Med 3 in 4 → vzameš manjšo številko, torej

Kje je **VELIKI KAZALEC**?  
Na 9 → torej je to **45 minut**

❖ Povej koliko je ura! Nastavi na svoji uri.



❖ Reši DZ 26

8.00	8.15	8.30	8.45
Ura je _____.	Ura je 15 _____ čez _____.	Ura je pol _____.	Ura je 15 _____ do _____.

Nariši kazalce! Dopolni številčne zapise!

_____	_____	_____	_____
Ura je devet.	Ura je 15 minut čez devet.	Ura je pol desetih.	Ura je 15 minut do desetih.

Koliko je ura? Dopolni s številskim in besednim zapisom ure!





_____	_____	_____	_____
Ura je _____.	Ura je 15 _____ čez _____.	Ura je _____ _____.	Ura je 15 _____ do _____.

❖ Če nimaš DZ, potem na svoji uri pokaži in v zvezek zapiši:

1)

<b>8.00</b>	<b>8.15</b>	<b>8.30</b>	<b>8.45</b>
Ura je _____ .	Ura je 15 _____ čez _____ .	Ura je pol _____ .	Ura je 15 _____ do _____ .

2) Zapiši koliko je ura s številko (ne riši ure in besede)

 _____ .	 _____ . čez _____ .	 _____ . _____ .	 _____ . do _____ .
Ura je _____ .	Ura je 15 _____ čez _____ .	Ura je _____ . _____ .	Ura je 15 _____ do _____ .

Pojdi na **interaktivna gradiva reši eno ali dve nalogi:**

<https://www.thatquiz.org/sl/practice.html?time&j=3&l=3&m=2kc0&n=a&p=1ug>

[https://www.digipuzzle.net/digipuzzle/kids/puzzles/linkpuzzle\\_analogue\\_digital\\_clocks.htm?language=slovenian&linkback=../../education/clocks/index.htm](https://www.digipuzzle.net/digipuzzle/kids/puzzles/linkpuzzle_analogue_digital_clocks.htm?language=slovenian&linkback=../../education/clocks/index.htm)

Poslikaj se, kako rešuješ vaje na računalniku!

❖ **Domača naloga**  
Reši delovni list – torek

Delovni list - torek

Zapiši koliko je ura



Vriši uro!



6.15



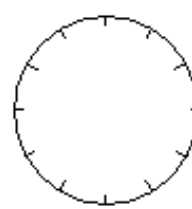
2.45



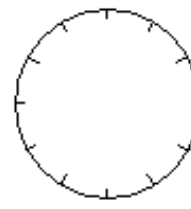
5.45



8.15



3.45



11.45