

ELEKTRIKA

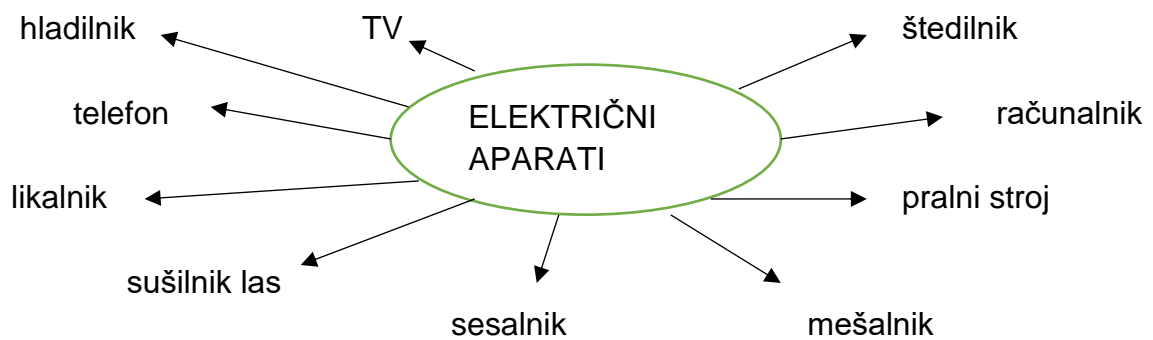
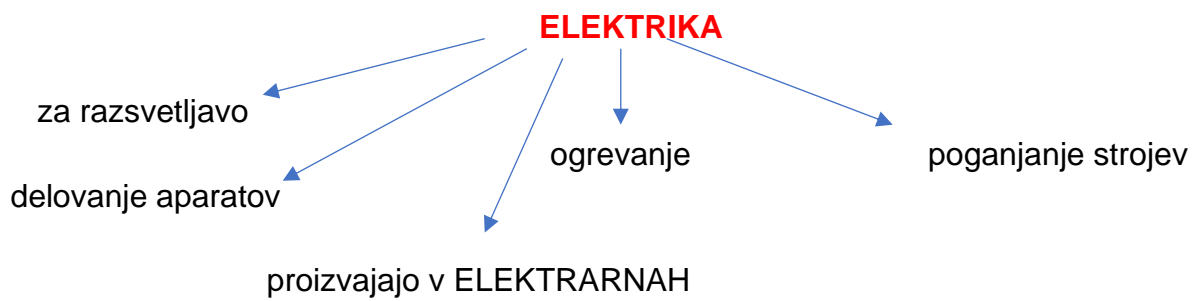
UČB 141

Imenuj predmete na sliki!




Katere električne aparate, ki so na sliki, si že uporabljal?

Zapis v zvezek:



Preberi

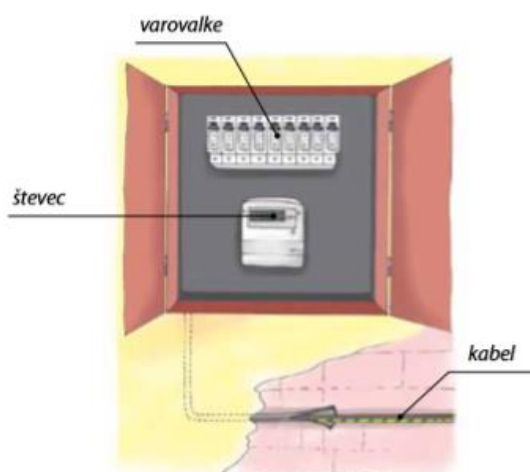
Električen kabel



Električni tok teče po žicah, ki morajo biti **zaščitene z gumo ali plastiko** (ker guma in plastika ne prevajata električnega toka in ne more priti do požara).

Žice so do naših hiš speljane pod zemljo ali po zraku.

Doma naj ti starši pokažejo električen števec in varovalke.



Na električnem števcu odčitamo, koliko elektrike smo porabili.

Pri uporabi elektrike bodimo varčni.

Domača naloga

- Nariši 3 električne aparate – sušilnik las, pralni stroj, računalnik.
- Nariši električen števec z varovalkami (takega kot imate doma)